

¿QUÉ HACE EL ROBOT?

Este robot coge los números de la izquierda y los transforma en los de la derecha. ¿Puedes deducir que norma sigue en cada caso?

5
2
3
7

10
4
6
14

¿Qué piensas?

6
4
8
9

24
16
32
36

¿Qué piensas?

2
12
14
8

1
6
7
4

¿Qué piensas?

6
13
9
21

3
10
6
18

¿Qué piensas?

8
12
9
4

24
36
27
12

¿Qué piensas?

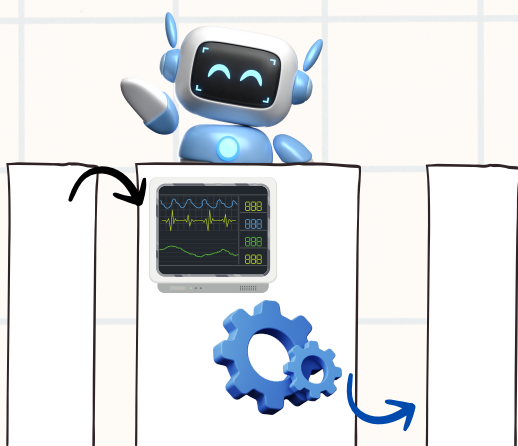
6
18
24
36

1
3
4
6


¿Qué piensas?

¿QUÉ HACE EL ROBOT?


Ahora te proponemos que crees tus propios números y retes a tus compañeros a que adivinen como has programado el robot en cada caso.




¿Qué piensas?



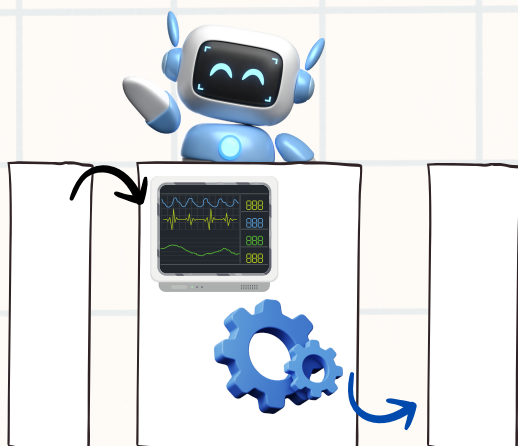
¿Qué piensas?




¿Qué piensas?



¿Qué piensas?



¿Qué piensas?



¿Qué piensas?



QUÈ FA EL ROBOT?

Aquest robot agafa els números de l'esquerra i els transforma als de la dreta. Pots deduir quina norma segueix en cada cas?

5
2
3
7

10
4
6
14

Què en penses?

6
4
8
9

24
16
32
36

Què en penses?

2
12
14
8

1
6
7
4

Què en penses?

6
13
9
21

3
10
6
18

Què en penses?

8
12
9
4

24
36
27
12

Què en penses?


6
18
24
36

1
3
4
6


Què en penses?

QUÈ FA EL ROBOT?

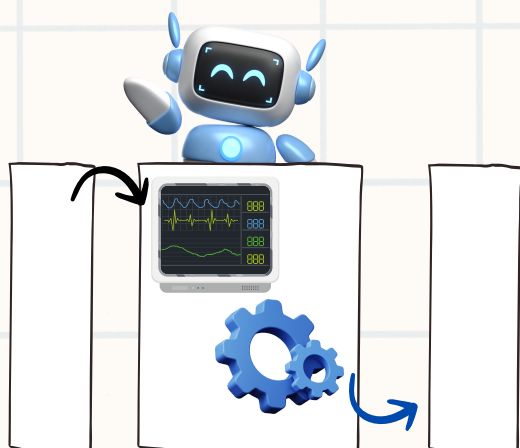
Ara et proposem que creïs els teus propis números i reptis als teus companys que endevinin com has programat el robot en cada cas.




Què en penses?



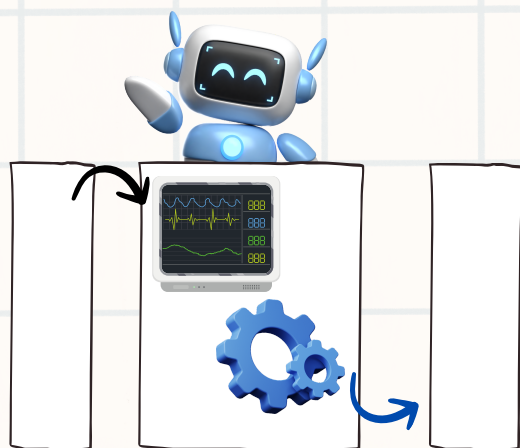
Què en penses?



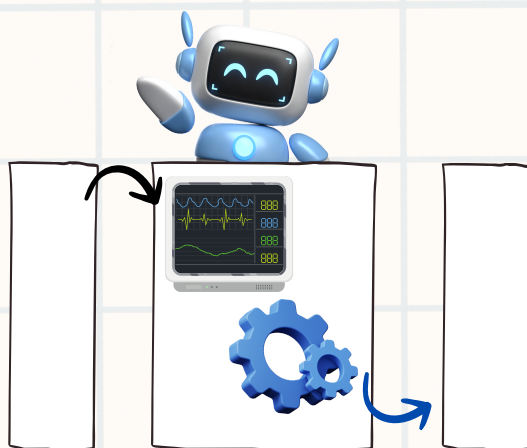
Què en penses?



Què en penses?



Què en penses?



Què en penses?